

Автор Н.И. Дорошенкова

2
часть

ЗАНИМАТЕЛЬНАЯ МАТЕМАТИКА

МАТЕМАТИКА

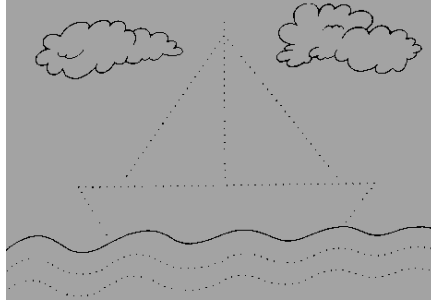
РАБОЧАЯ ТЕТРАДЬ



УРОК №1

1. Поставь 5 точек.


2. Обведи по точкам кораблик и раскрась облака.



3. Обведи прямую линию желтым карандашом, а кривую — зеленым карандашом. Нарисуй самостоятельно 2 прямых линии и 3 кривых линии.



4. Продолжи узор.

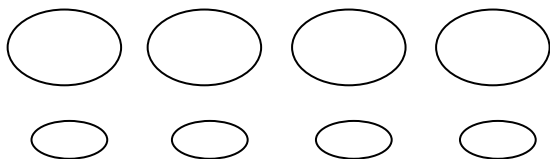


5. Реши примеры:


$1+2=$	$1+3=$	$4+1=$	$2-2=$
$1+1=$	$1+2=$	$2+2=$	$3+3=$

УРОК №2

1. Раскрась большие овалы синим цветом, а маленькие – красным.



2. Обведи по точкам и раскрась.




3. Проведи линию не отрывая карандаша от бумаги.



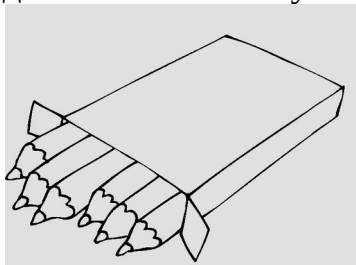
4. Нарисуй предметы, похожие на овал.

5. Выполни штриховку по образцу.


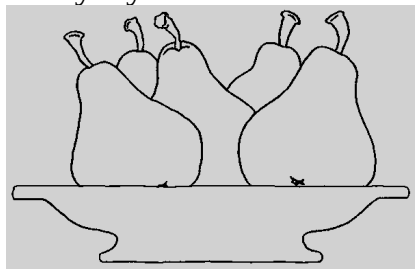


УРОК №3

1. Посмотри на картинку. Посчитай карандаши в коробке и подпиши соответствующую цифру.



2. Раскрась тарелку с грушами зеленым цветом, а пустую — синим.



3. Пропиши цифру 0.

0 ○

0 ○

4. Реши примеры:

$$1 + 3 =$$

$$2 + 2 =$$

$$3 - 3 =$$

$$4 + 1 =$$

$$2 - 2 =$$

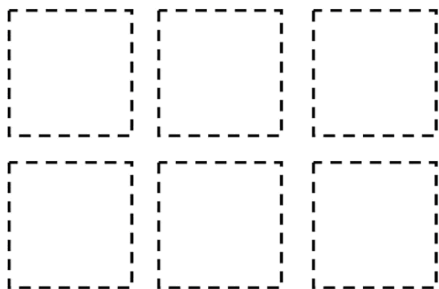
$$1 - 1 =$$

5. Нарисуй бусы, состоящие из геометрических фигур:



УРОК №5

1. Посчитай квадраты. Запиши ответ. Обведи и раскрась квадраты.

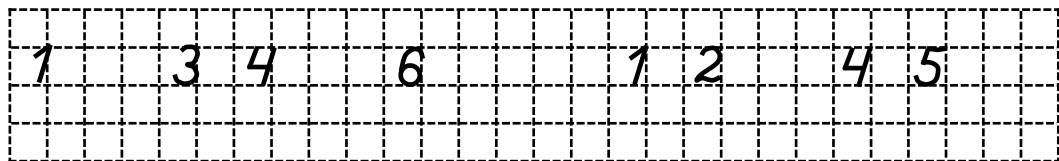


2. Пропиши цифру 6.

6 6

6 6

3. Какое число пропущено? впиши пропущенные числа.



4. Нарисуй столько кругов, сколько обозначает цифра 6.

5. Реши примеры:

$1 + 2 =$

$1 + 4 =$

$6 - 1 =$

$1 + 3 =$

$2 - 1 =$

$5 + 1 =$


УРОК №6

1. Пропиши цифру 6.

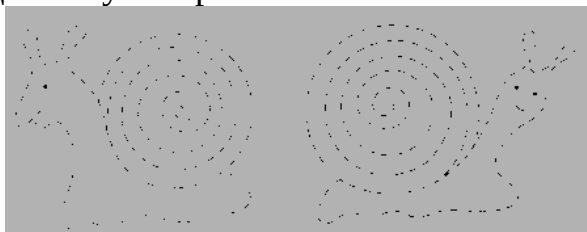
6 6

6 6


2. Раскрась на елочке только 6 игрушек.



3. Обведи по пунктирам.



4. Дорисуй каждой яблоку по одному листочку.
Сколько яблок? Сколько листочков? Запиши ответ.



5. Реши примеры:

$5 - 1 =$

$3 - 1 =$

$6 - 1 =$


$4 - 1 =$

$2 - 1 =$

$5 + 1 =$

УРОК №9

1. Посчитай, сколько ведер, сколько совочков и запиши ответ. Раскрась желтым карандашом предметы, которых меньше.



2. Реши примеры:

$1 - 1 =$

$1 + 3 =$

$1 + 5 =$

$1 + 2 =$

$1 + 4 =$

$5 - 1 =$

3. Пропиши цифры.

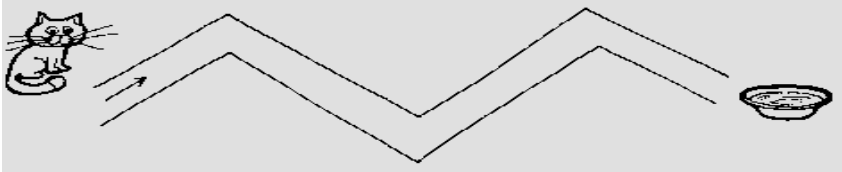
2

4

6

5

4. Помоги герою добраться до цели



5. Нарисуй еще грибов столько же, сколько листьев



УРОК №10

1. На какой по счету елке шишек меньше всего?

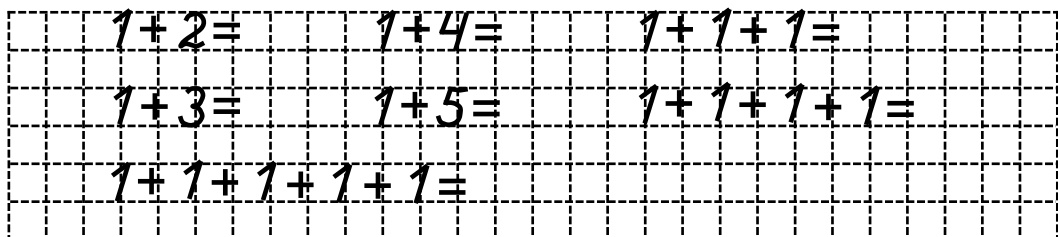
Раскрась ее.



2. Пропиши цифры:



3. Реши примеры на сложение:

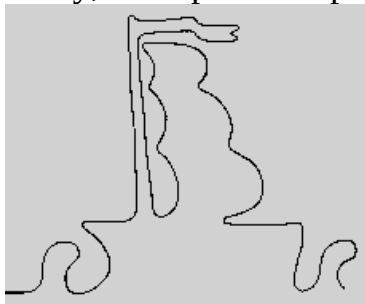


4. Раскрась картинку.



УРОК №14

1. Обведи картинку, не отрывая карандаш от бумаги.



2. Реши примеры.

$5 + \square = 6$

$3 + \square = 6$

$1 + \square = 6$

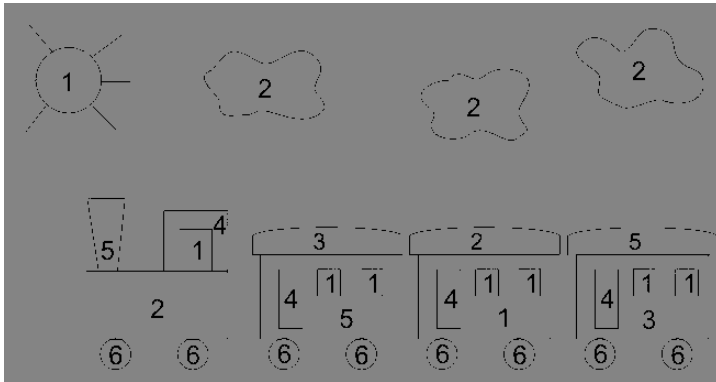
$4 + \square = 6$

$2 + \square = 6$

3. Дорисуй свечи на торте так, чтобы их стало 6.



4. Соедини цифры с нужным количеством предметов.



1-желтый, 2-синий, 3-зеленый, 4-красный,
5-оранжевый, 6-черный

4. Реши примеры на вычитание.


$3 - 2 =$	$4 - 3 =$	$6 - 2 =$	$5 - 5 =$
$5 - 4 =$	$6 - 3 =$	$6 - 5 =$	$1 - 1 =$

5. Обведи кружком то число, которое больше.
Подчеркни то число, которое меньше

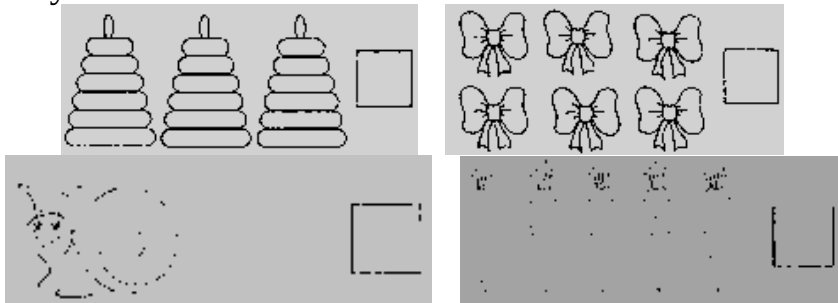
2 5 1 4 3 1 5 6 0 3

УРОК №17

1. Обведи не отрывая карандаш от бумаги.



2. Посчитай, сколько предметов. Напиши ответы в пустых клеточках.



3. Реши примеры.


$6 - 2 =$	$5 - 5 =$	$1 + 1 =$	$4 + 1 =$
$6 - 5 =$	$1 + 2 =$	$1 + 3 =$	$2 + 2 =$

4. Пропиши изученные цифры.

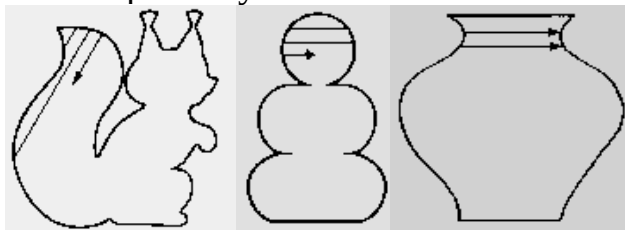
1	1					4	4				
2	2					5	5				
3	3					6	6				

УРОК №18


1. Обведи по точкам.



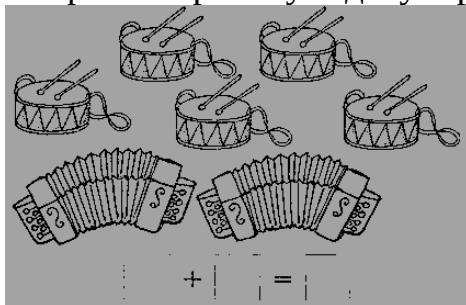
2. Выполни штриховку.



3. Поставь в середине рамки точку. Начерти через эту точку 1 прямую линию.




4. Составь, смотря на картинку задачу и реши её:




УРОК №19

1. Обведи не отрывая карандаш от бумаги.



2. Поставь в середине рамки точку. Начерти через эту точку 3 прямые линии.



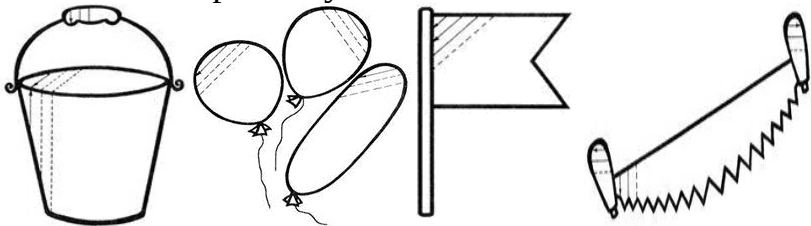
3. Реши примеры.

$6 - 2 =$	$5 - 5 =$	$1 + 1 =$	$1 + 4 =$
$6 - 5 =$	$1 + 2 =$	$1 + 3 =$	$2 + 2 =$

4. Обведи кружком то число, которое больше.
Подчеркни то число, которое меньше.

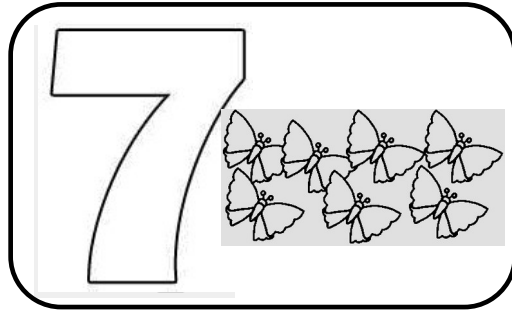
2 5 6 1 3 6 1 5 0 5

5. Выполни штриховку.




УРОК №20

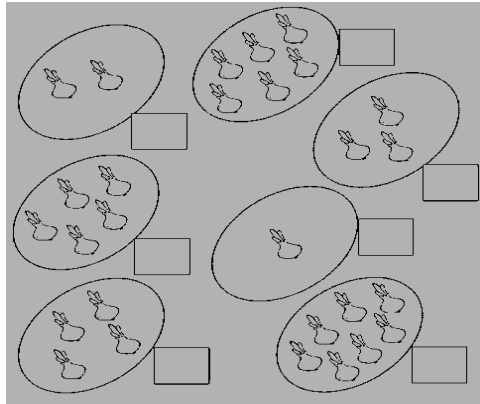
1. Посчитай бабочек. Раскрась их.



2. Пропиши цифру 7.



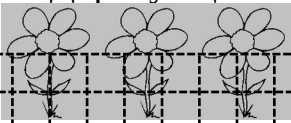
3. Посчитай сколько лука на картинках, впиши ответ в квадрат.



4. Запиши справа от каждого числа следующее число.

1... 2... 3... 4... 5... 6...

5. Дорисуй цветы, чтобы их было 7.



УРОК №21

1. Пропиши изученные цифры.

6 6

7 7

3 3

2. Нарисуй справа столько кругов, сколько обозначает записанная цифра.

3


5

7

4

6

3. Обведи по точкам.



4. Реши примеры:

$3 + 1 =$

$1 + 1 =$

$6 + 1 =$

$1 + 3 =$

$2 + 1 =$


$5 + 1 =$

$1 + 2 =$

$4 + 1 =$

УРОК №23

1. Обведи не отрывая карандаш от бумаги.



2. Реши примеры.

$3 + 1 =$

$1 + 1 =$

$6 + 1 =$

$1 + 3 =$

$2 + 1 =$

$5 + 1 =$

$1 + 2 =$

$4 + 1 =$

3. Обведи кружком то число, которое больше.
Подчеркни то число, которое меньше.

7

5

6

1

7

6

1

5

0

7

4. Посмотри на рисунок. Раскрась второй и шестой предмет.



5. Пропиши цифры.

2

2

6

6

4

4

7

7

5

5

1

1

УРОК №24

1. Пропиши цифры.


3 3

6 6

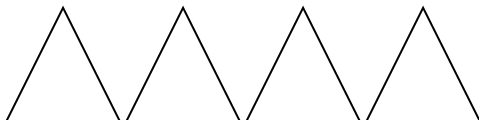
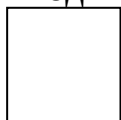
4 4

7 7

2. Выполни штриховку.



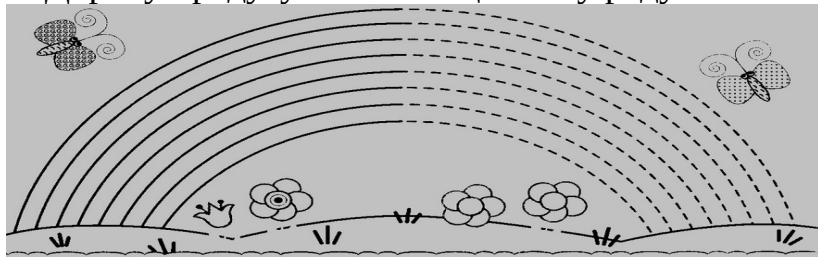
3. Сделай так, чтобы квадратов и треугольников стало одинаковое количество.



4. Вставь пропущенные знаки в примеры:


2	1 = 1	4	1 = 5	6	1 = 7
2	1 = 3	4	1 = 3	6	1 = 5

5. Дорисуй радугу. Сколько цветов у радуги?



УРОК №25

1. Пропиши цифры



2 2

6 6

5 5

0 0

2. Реши примеры.

$5 + 1 =$

$5 - 3 =$

$3 - 2 =$

$5 - 5 =$

$5 - 4 =$

$6 - 2 =$

$6 - 5 =$

$6 + 1 =$


3. Обведи кружком то число, которое больше.
Подчеркни то число, которое меньше.

6 7 5 6 4 7 3 7

4. Посчитай, сколько цветков на каждом кусте?
Запиши ответ.



5. Обведи по точкам.



УРОК №26

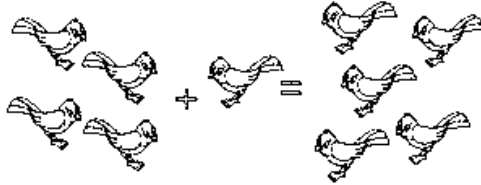
1. Пропиши цифру 7.

Grid for writing the digit 7.

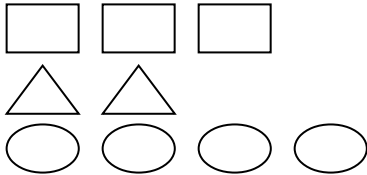
7

7

2. Реши задачу. Запиши решение.



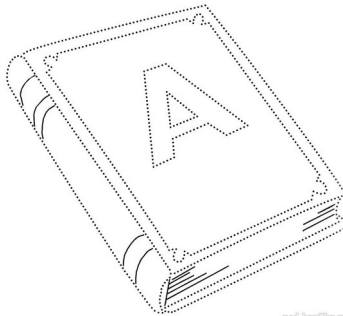
3. Дорисуй в каждом ряду фигурки так, чтобы их стало 7.



4. Реши примеры:

$3 + 1 + 1 =$	$5 + 1 + 1 =$	$3 + 1 + 1 + 1 =$
$4 + 1 + 1 =$	$2 + 1 + 1 + 1 =$	$4 + 1 + 1 + 1 =$

5. Обведи по точкам.



УРОК №27

1. Пропиши цифры.

5 5

7 7

2. Реши примеры.

$6 + 1 =$

$4 + 2 =$

$6 - 1 =$

$5 + 2 =$

$5 - 1 =$


$7 - 1 =$

3. Обведи кружком то число, которое больше.

Подчеркни то число, которое меньше.


1 5 6 1 4 6 2 5 7 1

4. Посмотри на рисунок. Раскрась 3 и 5 машинку.



5. Раскрась рисунок по цифрам.

1- зеленым, 2- желтым, 3-красным.



УРОК №28

1. Пропиши цифры.


5

7


2 2

7 7

2. Обведи по пунктиру.



3. Реши задачи.



4. Раскрась картинку. Сколько козлят? Напиши внизу картинку цифру.



УРОК №30

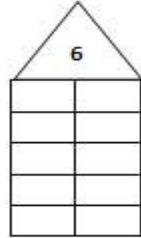
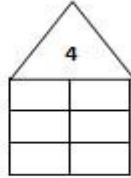

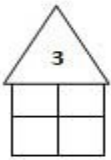
1. Пропиши цифры.

5	3									6	3
7	3									4	3

2. Реши примеры.

$6 + 1 =$	$4 + 2 =$	$6 - 1 =$
$5 + 2 =$	$5 - 1 =$	$7 - 1 =$

3. Засели домики жителями.




4. Нарисуй 7 любых предметов.

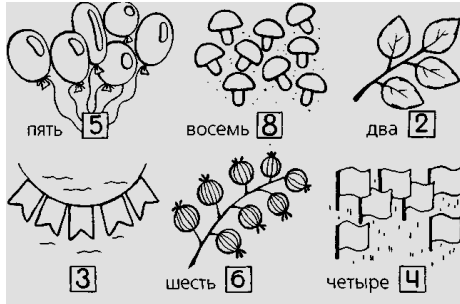
5. Нарисуй бусы так, чтобы они стояли только из овалов и прямоугольников.




1. Пропиши цифру.





2. Раскрась столько предметов, сколько показано цифрой.



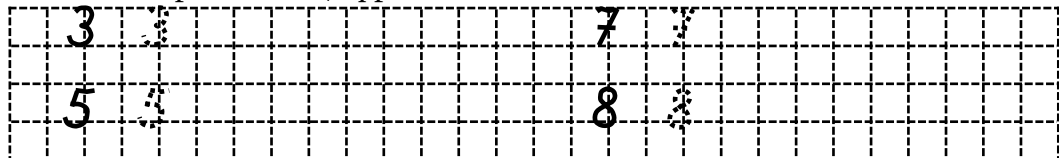
3. Реши примеры.




4. Сосчитай сколько предметов в каждой группе? Напиши нужные цифры.



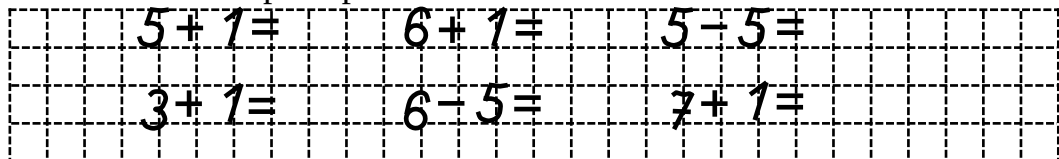
1. Пропиши цифры.




2. Раскрась столько предметов, сколько показывает число.



3. Реши примеры:



4. Реши задачу.



5. Запиши справа от каждого числа следующее число.

3... 6... 2... 7... 5...

УРОК №33

1. Обведи не отрывая карандаш от бумаги.



2. Реши примеры.


$3 + 1 =$	$5 + 1 =$	$1 + 2 =$	$1 + 3 =$
$2 + 1 =$	$6 + 1 =$	$1 + 1 =$	$4 + 1 =$

3. Обведи кружком то число, которое больше.

Подчеркни то число, которое меньше.

8 5 6 1 7 6 1 8 0 7

4. Посмотри на рисунок. Раскрась третий и восьмой предмет.



5. Пропиши цифры.

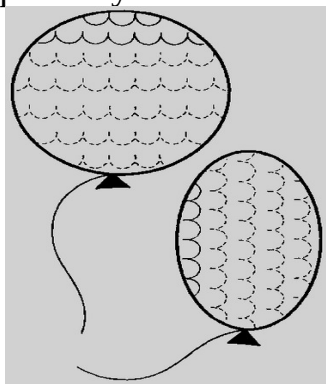
2	2					6	6				
8	8					7	7				

УРОК №34

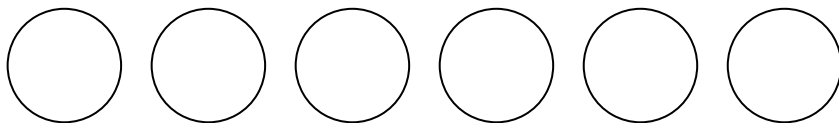

1. Обведи не отрывая карандаш от бумаги.



2. Выполни штриховку.



3. Сделай так, чтобы прямоугольников и кругов стало одинаковое количество.



4. Вставь пропущенные знаки в примеры:


2	1=1	4	1=5	6	1=7				
2	1=3	4	1=3	7	1=8				

УРОК №35

1. Пропиши цифры.

1	2	3	4
5	6	7	8
9	0	1	2

2. Раскрась столько предметов, сколько показывает цифра.



3. Нарисуй справа столько треугольников, сколько обозначает записанная цифра.

2
4
3
5

4. Запиши справа от каждого числа следующее число.

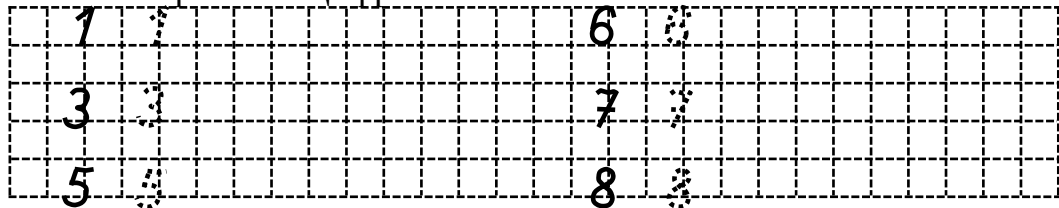
1... 2... 3... 4... 5... 6...

5. реши примеры:


$1 - 1 =$	$1 + 3 =$	$1 + 6 =$	$5 - 1 =$
$1 + 7 =$	$1 + 4 =$	$5 - 1 =$	$8 - 1 =$

УРОК №36

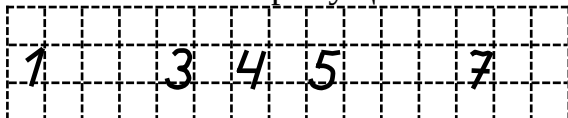
1. Пропиши цифры.



2. Начерти отрезок длиной 4 клетки.




3. Вставь пропущенные числа.



Обведи кружком число 6. Подчеркни все числа, которые меньше 6.

4. Реши задачу.

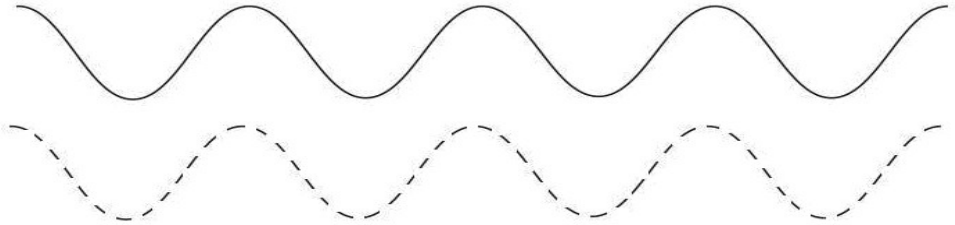


5. Раскрась в каждом ряду столько предметов, сколько обозначено цифрой.



УРОК №38


1. Обведи не отрывая карандаш от бумаги.



2. Соедини точки прямыми линиями. Какая геометрическая фигура получилась? Раскрась ее желтым цветом.



3. Раскрась семь предметов в красный цвет, шесть – в синий, пять – в зеленый, четыре – в желтый.

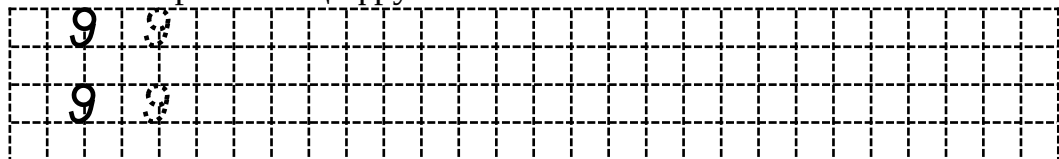


4. Соедини точки прямыми линиями. Какая геометрическая фигура получилась? Раскрась ее красным цветом.

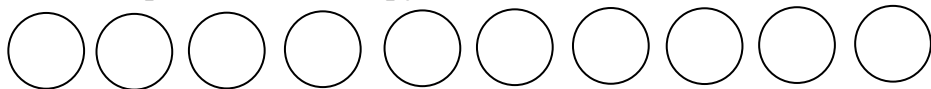


УРОК №39

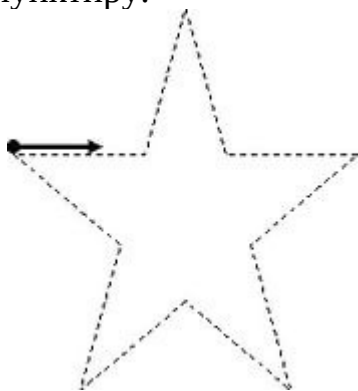
1. Пропиши цифру 9.



2. Раскрась только 9 кругов.



3. Обведи по пунктиру.



4. Дорисуй каждой елочке по одному грибочку. Сколько елочек? Сколько грибов? Запиши ответ.





5. Реши примеры.

$1 + 1 =$

$3 + 3 =$

$7 + 1 =$

$1 + 7 =$

$8 + 1 =$

$5 + 1 =$

УРОК №40

1. Пропиши цифры.

9 9

8 8

2. Реши примеры:

$1 + 1 =$

$3 + 3 =$

$7 + 1 =$

$1 + 7 =$

$8 + 1 =$

$4 + 1 =$

3. Обведи кружком то число, которое больше.

Подчеркни то число, которое меньше.

7 4 6 1 7 8 0 5 9 7

4. Запиши слева от каждого числа предыдущее число.

...3 ...5 ...6 ...4 ...7 ...9

5. Раскрась большую клубнику красным цветом, а маленькую – зеленым. Посчитай сколько всего клубничек и запиши ответ.

4. Реши примеры на вычитание:

$8 - 1 =$	$9 - 1 =$	$6 - 2 =$
$7 - 2 =$	$8 - 3 =$	$5 - 4 =$
$6 - 3 =$	$7 - 4 =$	$8 - 2 =$

УРОК №42

1. Пропиши цифры:

3	3					7	7
6	6					9	9

2. Нарисуй справа столько прямоугольников, сколько обозначает записанная цифра.

2

5

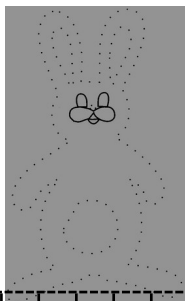
4

7

6

9

3. Обведи по точкам.



4. Реши примеры:

$8 + 1 =$	$5 + 1 =$	$2 + 1 =$	$1 + =$
$7 + 1 =$	$6 + 1 =$	$1 + 1 =$	$4 + 1 =$

3

+

5. Помоги щенку добраться до косточек.



УРОК №43

1. Пропиши цифры:

5 5

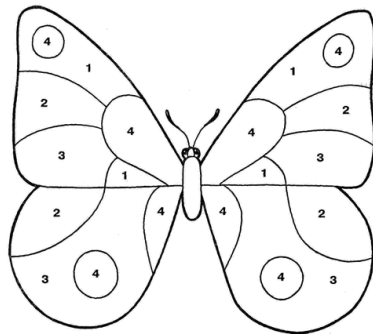
6 6

1 1

2. Обведи кружком то число, которое больше.
Подчеркни то число, которое меньше.

2 1 6 4 5 2 1 7 0 6

3. Раскрась картинку по цифрам. 1 – красным, 2 – зеленым, 3 – синим, 4 – желтым карандашами.




4. Запиши справа от каждого числа следующее число.

1... 7... 5... 4... 2...

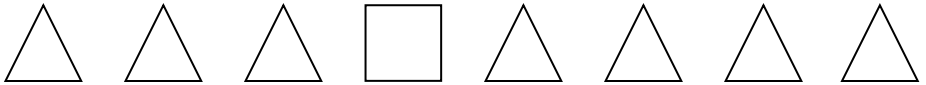
10	
9	
	8
7	
	6
5	
	4

9	
8	
	7
6	
	5
4	
	3

4. Обведи по пунктиру.




5. Найди в ряду лишнюю фигуру. Подчеркни ее.



УРОК №49

1. Обведи не отрывая карандаш от бумаги.



2. Сравни монеты. Подпиши их.



3. Реши примеры на сложение.


1р. + 1р. =

1р. + 5р. =

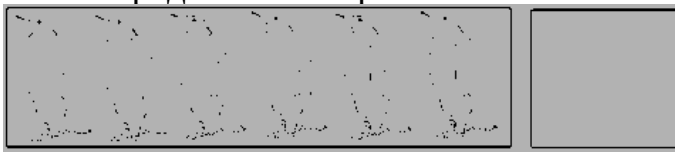
1р. + 2р. =

5р. + 5р. =

4. Обведи по точкам.

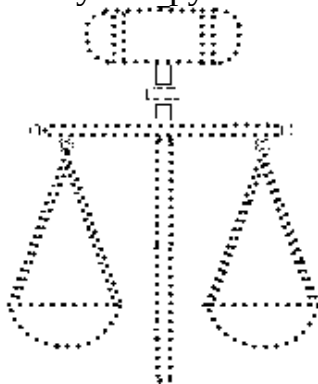


5. Посчитай предметы на картинках и напиши число.




УРОК №50

1. Обведи весы по пунктиру.



2. Раскрась гири.



1

3. Соедини точки прямыми линиями. Какая геометрическая фигура получилась? Раскрась ее синим цветом.

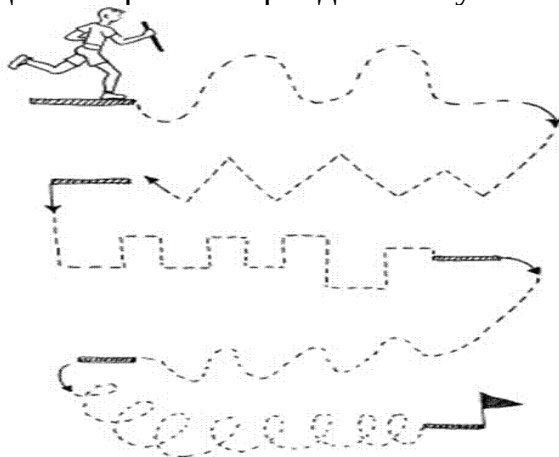


4. Дорисуй бусы так, чтобы они состояли из овалов и треугольников.

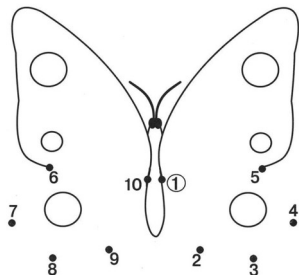


УРОК №51

1. Обведи не отрывая карандаш от бумаги.



2. Обведи по точкам и раскрась.



3. Начерти отрезок длиной 6 сантиметров.

4. Раскрась столько предметов, сколько показывает число.

7	
6	
4	